

高雄市永安國小 114 學年度下學期六年級社會領域期末評量

姓名:

請將答案寫在作答卷

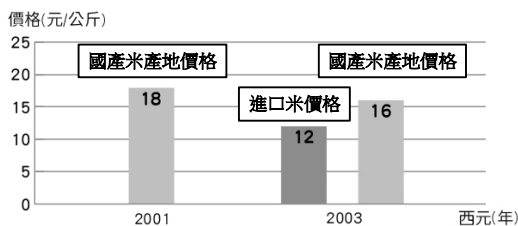
一、是非題：(每個答案 2 分，共 40 分)

- () 1. 俄羅斯發動戰爭入侵烏克蘭，西方各國為了制裁俄羅斯的軍事行動而發起能源禁運，導致全球石油價格下跌。
- () 2. 現今國際社會交流頻繁，形成地球村，一些國家或地區所發生的問題或衝突，都可以迅速解決，不會影響到其他國家或全世界。
- () 3. 西元 2023 年土耳其發生強震，在救援行動中，世界衛生組織正式把臺灣搜救隊列在官方搜救隊網站，是臺灣搜救隊執行國際人道救援任務以來的重大突破。
- () 4. 臺灣長期被排除在世界衛生組織之外，因此遇到嚴重的傳染病事件時，不僅無法即時了解疫情狀況及處理方式，也會對全球公共衛生安全造成隱憂。
- () 5. 臺灣加入世界貿易組織後，由於進口商品關稅的調降，使得進口商品的價格較便宜。
- () 6. 臺灣的外交空間雖然受限，但政府、民間與個人仍可以透過許多管道努力，積極走向世界，與各國交流、合作。
- () 7. 台灣路竹會是一個人道關懷、緊急救援的醫療服務團隊，他們號召國內外的醫界志工與一般義工進行服務。
- () 8. 馬拉拉是巴基斯坦的一位女性，她因推動兒童能享有安全、有保障的工作環境而遭受恐怖分子槍擊重傷。
- () 9. 國際移工到其他國家工作，因為語言隔閡和非本國籍等因素，使得他們難以替自己爭取工作權益。
- () 10. 目前來臺灣的國際移工，是以印尼、越南、柬埔寨、泰國為主。
- () 11. 在疫情期間，如果一個國家無法順利取得疫苗，可能會影響該國防疫的效果，導致疫情擴散，影響民眾的健康。
- () 12. 由於人類使用電力、運輸工具或生產工業產品等，使得全球碳排放量快速增加，造成全球暖化的現象。
- () 13. 學校常見到「節能減碳」的標語，其中「碳」指的是溫室氣體中比例最高的「二氧化碳」。
- () 14. 防止全球暖化是以工業發展為主的國家的責任，以發展農業、服務業為主的國家或地區則不必參與。
- () 15. 由於臺灣經濟實力雄厚，又是發展資訊產業的重要地區，因此不需要擔心糧食不足的危機。
- () 16. 按照聯合國氣候變化綱要公約的巴黎協定之規定，簽署國在西元 2030 年要實現淨零排放的目標。
- () 17. 在科技產品生產過程中的重要原料，大多由某個國家生產，若該國宣布減少原料的出口數量，可能對世界造成重大的影響。
- () 18. 近年韓國影音演藝產業席捲全球，獲得巨大利益。其中韓國男子團體防彈少年團 (B T S) 長期從事慈善事業，也鼓勵歌迷一起從事慈善活動，這是善盡世界公民責任義務的表現。

- () 19. 土地是影響糧食生產的原因，只要有足夠的土地就能生產足夠的糧食，供應全球各地的需求。
- () 20. 非洲數百萬人正在經歷長期的飢餓，並處於饑荒的危機中，他們的基本人權已受到了危害。

二、選擇題：(每個答案2分，共20分)

- () 1. 位於太平洋的馬紹爾群島，雖然全國的碳排放量極低，為什麼卻深受全球暖化的影響，國土面臨被海水淹沒的威脅？ ①全球暖化發生在海洋 ②全球生態環境緊密相依 ③馬紹爾群島附近有許多冰山 ④全球暖化只會影響島嶼。
- () 2. 下列何者不是 國合會援助外國的工作項目？ ①舉辦「飢餓三十」的體驗活動 ②派遣技術團教導外國農民種植技術 ③與醫院進行技術交流，協助培育醫療人才 ④招募華語教師前往教授，並推廣文化活動。
- () 3. 關於世界衛生組織的敘述，下列何者正確？ ①簡稱WTO ②是目前全球規模最大、最重要的國際組織 ③每年5月，組織的成員會召開世界衛生大會 ④臺灣在西元2002年正式加入世界衛生組織。
- () 4. 許多人遠赴其他國家工作，成為國際移工的主要原因為何？ ①尋求較高的工資 ②富有冒險精神 ③可以學習新語言 ④受到社群網路的影響。
- () 5. 來臺灣的國際移工，大多從事什麼工作，以解決臺灣的缺工問題？ ①銀行或保險工作 ②營造或看護工作 ③科技或資訊工作 ④新聞或廣告工作。
- () 6. 引進國際移工可能會引起下列哪一種問題？ ①影響本國籍勞工求職 ②增加國內教育負擔 ③造成大眾運輸擁擠 ④外國觀光客大幅減少。
- () 7. 來自印尼的尤妮在臺灣擔任看護，她經常超時工作，卻沒有獲得合理的薪資待遇。請問她可能是因為哪一種因素，難以替自己爭取合理的工作權益？ ①精通中文 ②宗教信仰 ③非本國籍 ④學歷優秀。
- () 8. 科學家研究發現，蝗蟲喜歡溫暖乾燥的環境，因此當氣候發生何種異常現象時，容易引發蝗蟲帶來的蝗災？ ①暴雨 ②颱風 ③熱浪 ④乾旱。
- () 9. 為什麼世界各國達成生態環境保護的共識，願意遵守碳排放量的標準？ ①提升國際貿易競爭力 ②降低全球暖化的危害 ③促進國家的文化發展 ④保護每個人的受教權。
- () 10. 下表為臺灣加入世界貿易組織 (WTO) 前後的米價，下列何者為臺灣加入WTO後可能出現的情況？



加入WTO前 加入WTO後

- ①國產米銷售量增加 ②進口米價格不斷上升 ③稻農面臨價格競爭壓力 ④消費者的選擇變少。

三、看圖回答問題：(每個答案 2 分，共 20 分)

1. 下圖是臺灣某個援助外國的專責機構，其所派遣的技術團技師正在向聖露西亞農民介紹胡瓜的新品種及特性，請圈出正確的答案。

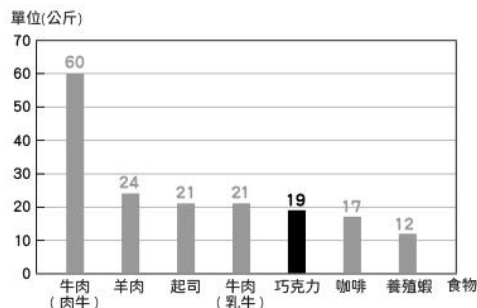


- ① 這個臺灣援助外國的專責機構是 (台灣路竹會 / 國合會) 。
- ② 這個專責機構，主要在協助友好及 (開發中國家 / 已開發國家) 的經濟及社會發展，並增進彼此關係。
- ③ 觀察這張照片，技術團是在協助聖露西亞發展 (農業 / 教育) 方面的工作。

2. 請根據下圖，在敘述正確的 () 中畫○，錯誤的打×。



- () ① 安娜從事居家看護，照顧阿公。
- () ② 基本人權包括宗教信仰的自由。
- () ③ 阿媽強迫安娜吃午餐，是保護人權的行動。
- () ④ 如果安娜超時工作，阿媽應該給予加班費。
3. 請閱讀下圖「每公斤食物所產生的碳排放量排行表」，判斷下列敘述是否正確，並在對的 () 中畫○，錯的畫×。



- () ①食物在生產、運輸的過程中，會產生碳排放量。
 () ②相較於肉類，養殖蝦的碳排放量較低，可以多食用。
 () ③多吃肉類，例如：牛肉、羊肉等，有助於減緩全球暖化。

四、綜合題：(每個答案5分，共20分)

1. 由於傳染病疫情擴散，目前入境臺灣的民眾必須配合防疫措施。下列哪些人的防疫觀念是正確的？請將正確的代號填入()中。

- ①德祖：雖然要被隔離好幾天，但是這樣有助於阻斷疫情的擴散。
 ②明成：我贊成染疫者必須到醫院進行治療，不然有可能會傳染給更多人。
 ③艾蓉：等我隔離期滿，我要趕快去打疫苗，增加自己的免疫力。

答：()。

2. 老師請同學們判別網路上流傳的訊息，下列哪些訊息內容可能是正確的？請將正確的代號填入()中。

- ①發布於社群網站的貼文：「驚！原來全球暖化與碳排放量有那麼深的關係！」
 ②發布於影音平臺的短影片：「根據科學家監測，目前全球平均溫度已上升 6°C ，大家要節能減碳、愛護地球。」
 ③通訊軟體群組轉傳的訊息：「由於海平面上升，某些太平洋的島國將面臨國土被淹沒的危機。」

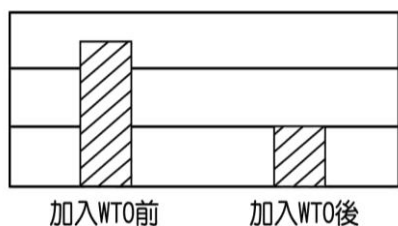
答：()。

3. 某場氣候變遷的研討會上，許多專家學者討論全球暖化導致的暴雨對臺灣各地淹水的影響，下列哪些人的說法正確？請將正確的代號填入()中。

- ①王先生：受到暴雨的影響，臺灣各地淹水災害的風險都相同。
 ②李小姐：地勢低窪、排水不良的地區，遇到暴雨時，淹水災害風險高於其他地方。
 ③吳先生：由於無法準確預測暴雨發生的時機，所以應該定時清理排水系統。

答：()。

4. ()小傑在上「為什麼臺灣要參與國際事務？」這堂課時打瞌睡，沒有把上課內容抄寫完整，只見他的筆記出現不完整的統計圖：



這張統計圖的名稱最可能是下列何者？ ①臺灣加入WTO前後，進口商品的售價比較圖 ②臺灣加入WTO前後，進口商品的種類比較圖 ③臺灣加入WTO前後，國產米的競爭者數量變化圖 ④臺灣加入WTO前後，國內出口商品競爭力變化圖。